

## PROVA 1A - TRACCIA 1

**PROVA PRATICA**

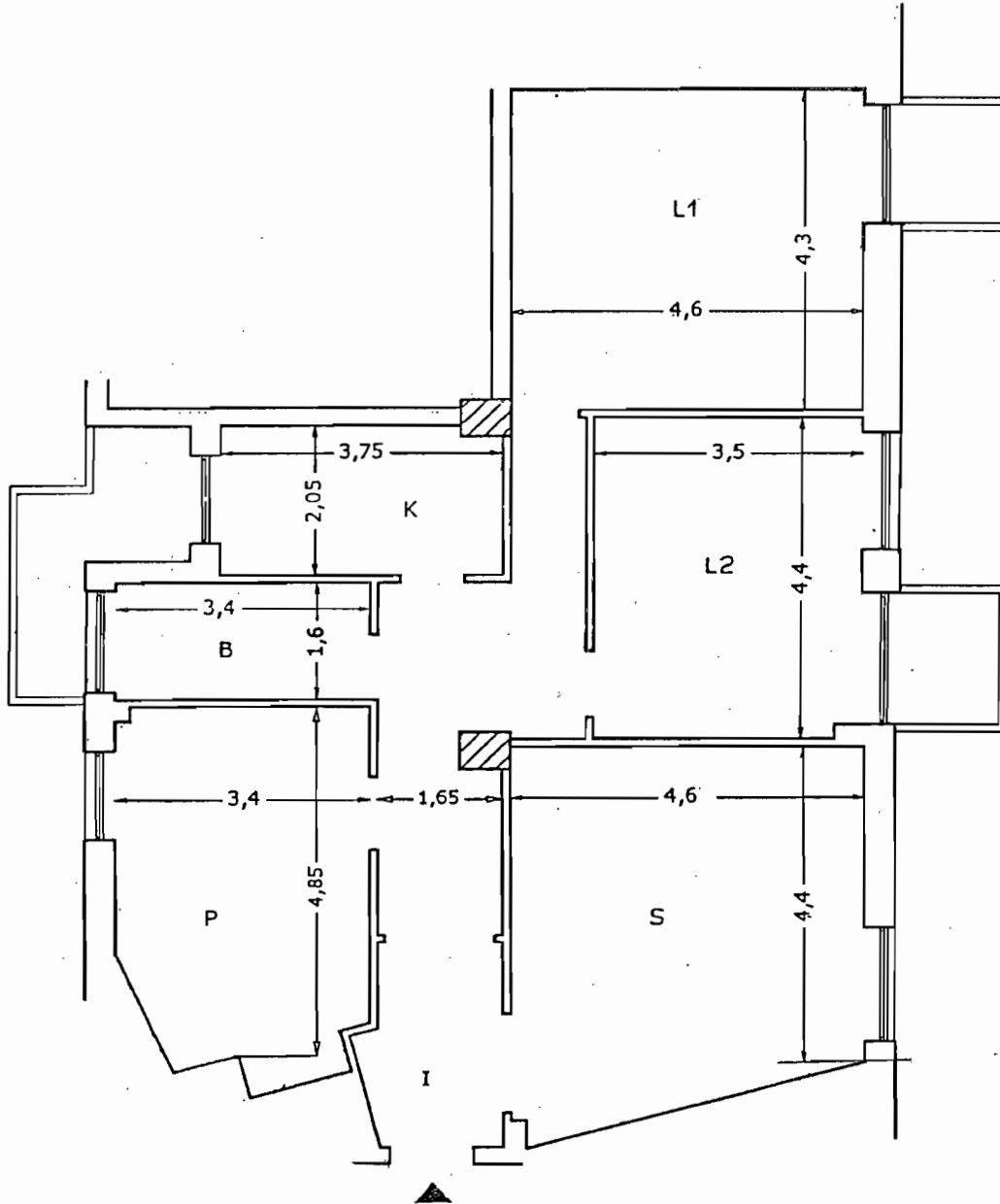
DATO IL DISEGNO DELL' APPARTAMENTO IN ALLEGATO, DOVENDO PREVEDERE LA RISTRUTTURAZIONE E LA RIFUNZIONALIZZAZIONE DELL'IMMOBILE, SI RICHIEDONO:

- PIANTA (SCALA 1:50) CON INDICAZIONE DEGLI ARREDI, DEI PUNTI LUCE DELL'IMPIANTO ELETTRICO NONCHE' DELLE INFORMAZIONI NECESSARIE ALLA SUA PIU' COMPLETA DEFINIZIONE: QUOTE, MISURE, MATERIALI ECC. E QUANT'ALTRO IL CANDIDATO RITENGA OPPORTUNO PER UNA ESAURIENTE DESCRIZIONE DEL PROGETTO E PER UNA SUA CORRETTA REALIZZAZIONE.

- SEZIONE (1:50)
- PARTICOLARI COSTRUTTIVI E/O ARCHITETTONICI NELLE SCALE PIU' OPPORTUNE;
- ALMENO UN DETTAGLIO DI UN ARREDO FISSO;
- RELAZIONE TECNICO- ILLUSTRATIVA A GIUSTIFICAZIONE E CHIARIMENTO DELL' INTERVENTO PROPOSTO

**1^ PROVA SCRITTA**

- IL CANDIDATO ELABORI UN COMPUTOMETRICO ESTIMATIVO RELATIVO ALLE OPERE DA REALIZZARSI.



TEMA ESTRATTO

ESAMI DI STATO PER L'ABILITAZIONE ALL'ESERCIZIO DELLA PROFESSIONE DI ARCHITETTO IUNIOR -  
SESSIONE ESTIVA GIUGNO 2011 - PROVA DEL 22.06.2011

*[Handwritten signatures]*

*[Handwritten signature]*

**2) -Interior Design -Progetto di un Negozio d'Abbigliamento (mq 60 circa con h =mt 4,50 )al piano terra di un edificio per abitazioni.**

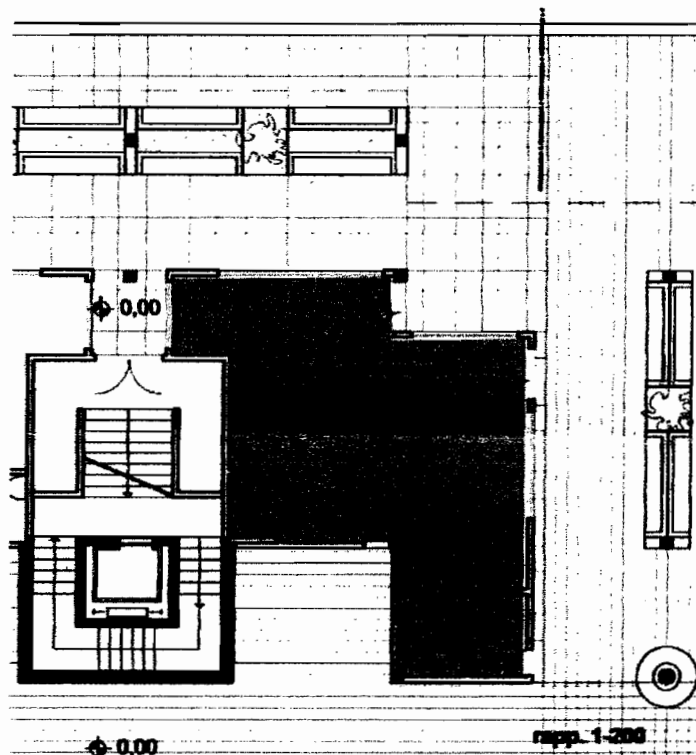
**Dopo aver effettuato la rappresentazione alla scala esecutiva (rapp. 1/50) della porzione allegata ( rapp.1/200) effettuare lo sviluppo del progetto architettonico ,comprensivo degli arredi (rapp. 1:50). Valutare l'inserimento delle vetrine nel prospetto di un edificio con antistante un portico e progettare l'insegna. Il progetto sarà corredato dei particolari costruttivi alle scale opportune (1:10 -1:5 -1:2 -1:1) .**

**Prova scritta**

**Effettuare la relazione tecnica ed il Computo metrico estimativo ( per i valori/costi indicare solo le unità di misura) relativi alle opere da realizzare.**

**Particolare attenzione dovrà essere posta ai problemi della sicurezza in fase di progettazione.**

**Scrivere la relazione da allegare alla domanda di concessione/autorizzazione per il Comune.**



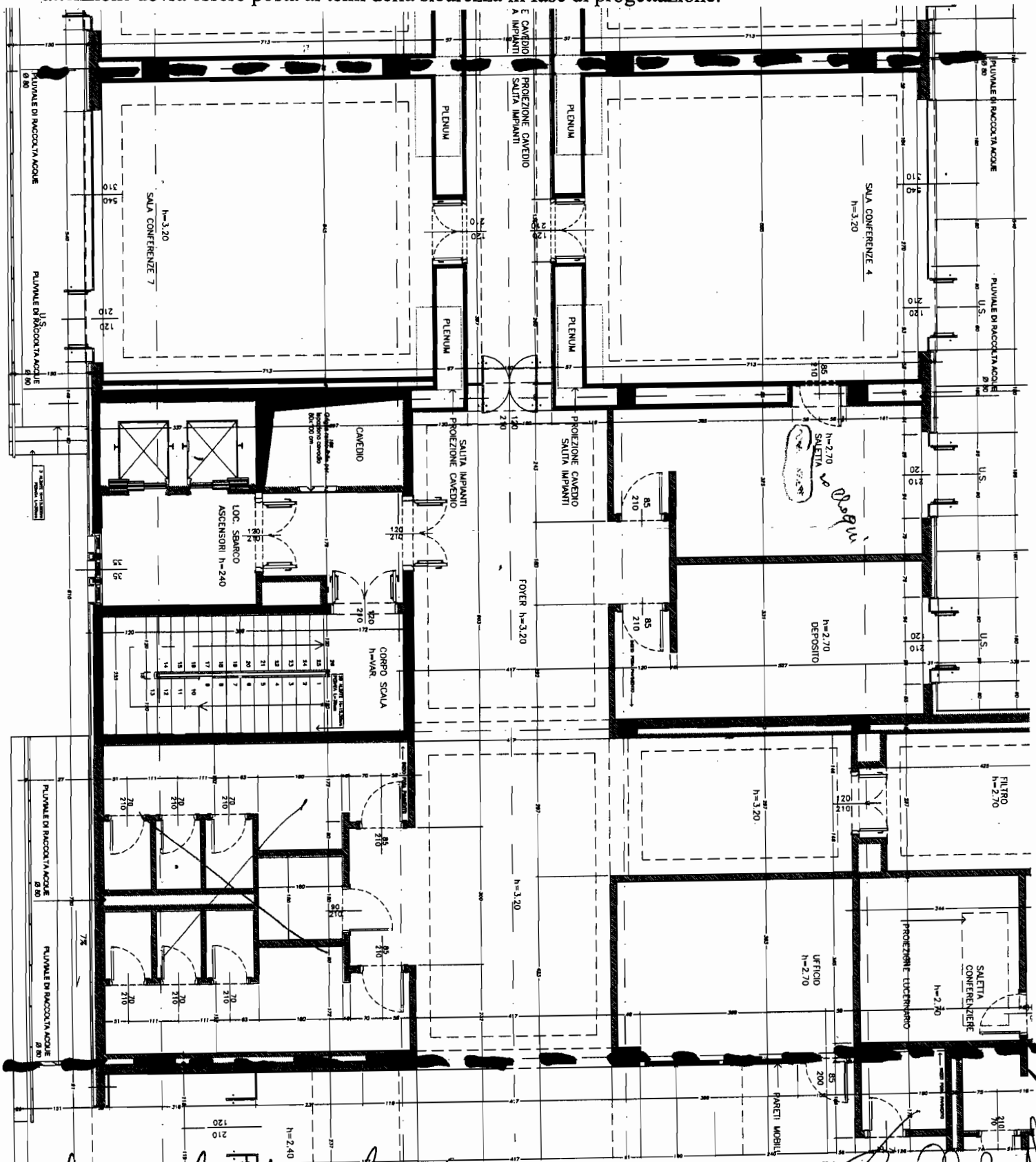
*[Handwritten signature]*

ESAMI DI STATO PER L'ABILITAZIONE ALL'ESERCIZIO DELLA PROFESSIONE DI ARCHITETTO IUNIOR -  
SESSIONE ESTIVA GIUGNO 2011 - PROVA DEL 22.06.2011

*[Handwritten signature]*

*[Handwritten signature]*

Dopo aver effettuato la rappresentazione alla scala esecutiva (rapp. 1:50), sviluppare il progetto architettonico degli interni, con arredi, corredato di particolari costruttivi alle scale opportune e comunque non inferiori a 1:10. Il grafico di riferimento fuori scala fornito deve essere considerato privo di tutte le finiture interne (tramezzature normali mobili o attrezzate, pavimenti, rivestimenti, controsoffitti, sanitari, rubinetterie, infissi interni, ecc.) di cui dovrà essere fornito un computo metrico estimativo. Particolare attenzione dovrà essere posta ai temi della sicurezza in fase di progettazione.



*Handwritten signature and notes at the bottom left.*

*Handwritten signature and notes at the bottom right.*

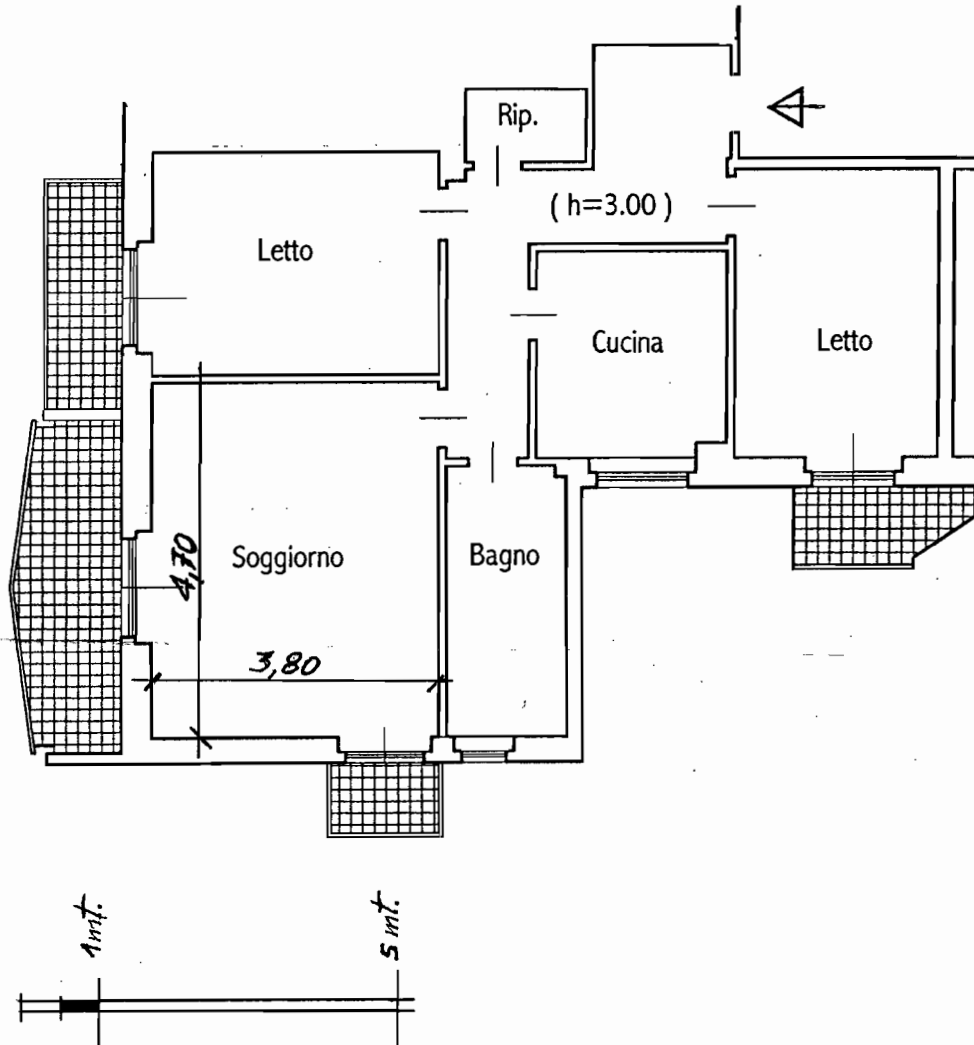
**PROVA PRATICA**

DATO IL DISEGNO DELL' APPARTAMENTO IN ALLEGATO, DOVENDO PREVEDERE LA RISTRUTTURAZIONE E LA RIFUNZIONALIZZAZIONE DELL'IMMOBILE, SI RICHIEDONO:

- PIANTA (SCALA 1:50) CON INDICAZIONE DEGLI ARREDI, DEI PUNTI LUCE DELL'IMPIANTO ELETTRICO NONCHE' DELLE INFORMAZIONI NECESSARIE ALLA SUA PIU' COMPLETA DEFINIZIONE: QUOTE, MISURE, MATERIALI ECC. E QUANT'ALTRO IL CANDIDATO RITENGA OPPORTUNO PER UNA ESAURIENTE DESCRIZIONE DEL PROGETTO E PER UNA SUA CORRETTA REALIZZAZIONE.
- SEZIONE (1:50)
- PARTICOLARI COSTRUTTIVI E/O ARCHITETTONICI NELLE SCALE PIU' OPPORTUNE;
- ALMENO UN DETTAGLIO DI UN ARREDO FISSO;
- RELAZIONE TECNICO- ILLUSTRATIVA A GIUSTIFICAZIONE E CHIARIMENTO DELL' INTERVENTO PROPOSTO

**1^ PROVA SCRITTA**

- IL CANDIDATO ELABORI UN COMPUTOMETRICO ESTIMATIVO RELATIVO ALLE OPERE DA REALIZZARSI.



ESAMI DI STATO PER L'ABILITAZIONE ALL'ESERCIZIO DELLA PROFESSIONE DI ARCHITETTO IUNIOR -  
SESSIONE ESTIVA GIUGNO 2011 - PROVA DEL 22.06.2011

*[Handwritten signatures and initials]*

CleBar

PROVA IB TRACCIA 2

3) -Interior Design -Progetto di un Negozio di Oggettistica (mq 50 circa con h =mt 4,50 )al piano terra di un edificio per abitazioni.

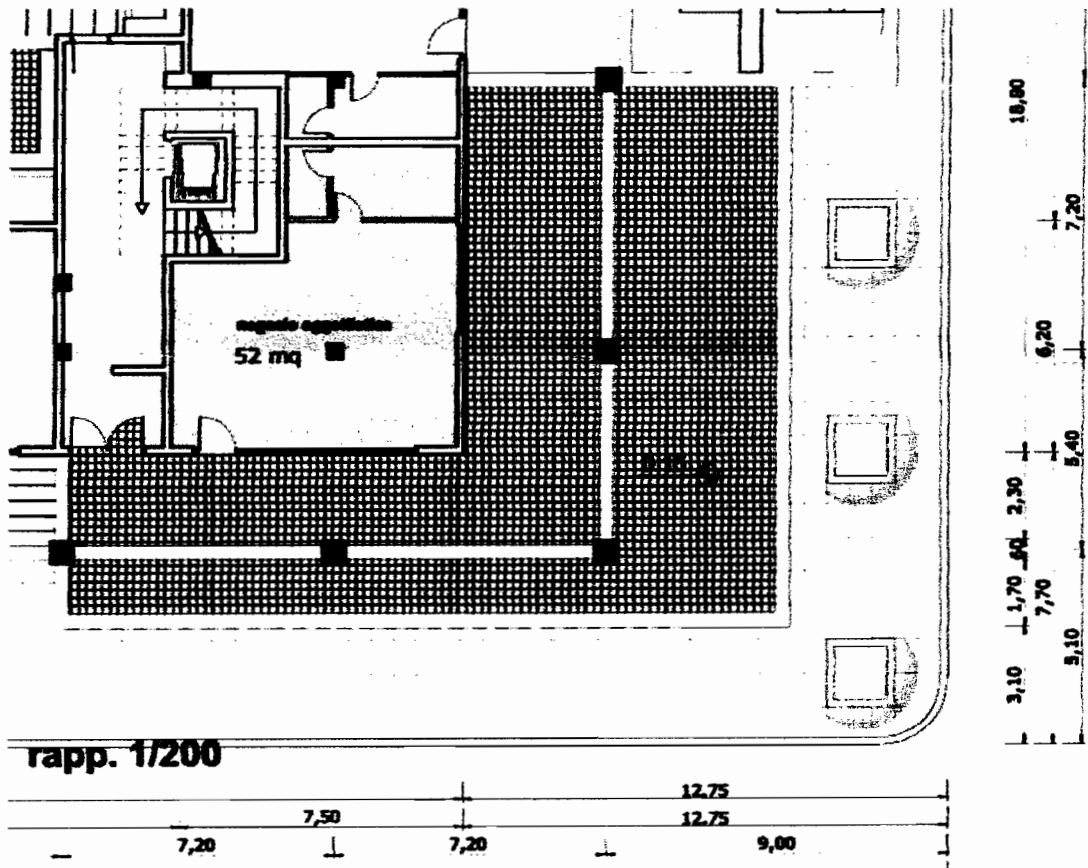
Dopo aver effettuato la rappresentazione alla scala esecutiva (rapp. 1/50) della porzione allegata ( rapp.1/200) effettuare lo sviluppo del progetto architettonico ,comprensivo degli arredi (rapp. 1:50). Valutare l'inserimento delle vetrine nel prospetto di un edificio con antistante un portico e progettare l'insegna. Il progetto sarà corredato dei particolari costruttivi alle scale opportune (1:10 -1:5 -1:2 -1:1) .

Prova scritta

Effettuare la relazione tecnica ed il Computo metrico estimativo ( per i valori/costi indicare solo le unità di misura) relativi alle opere da realizzare.

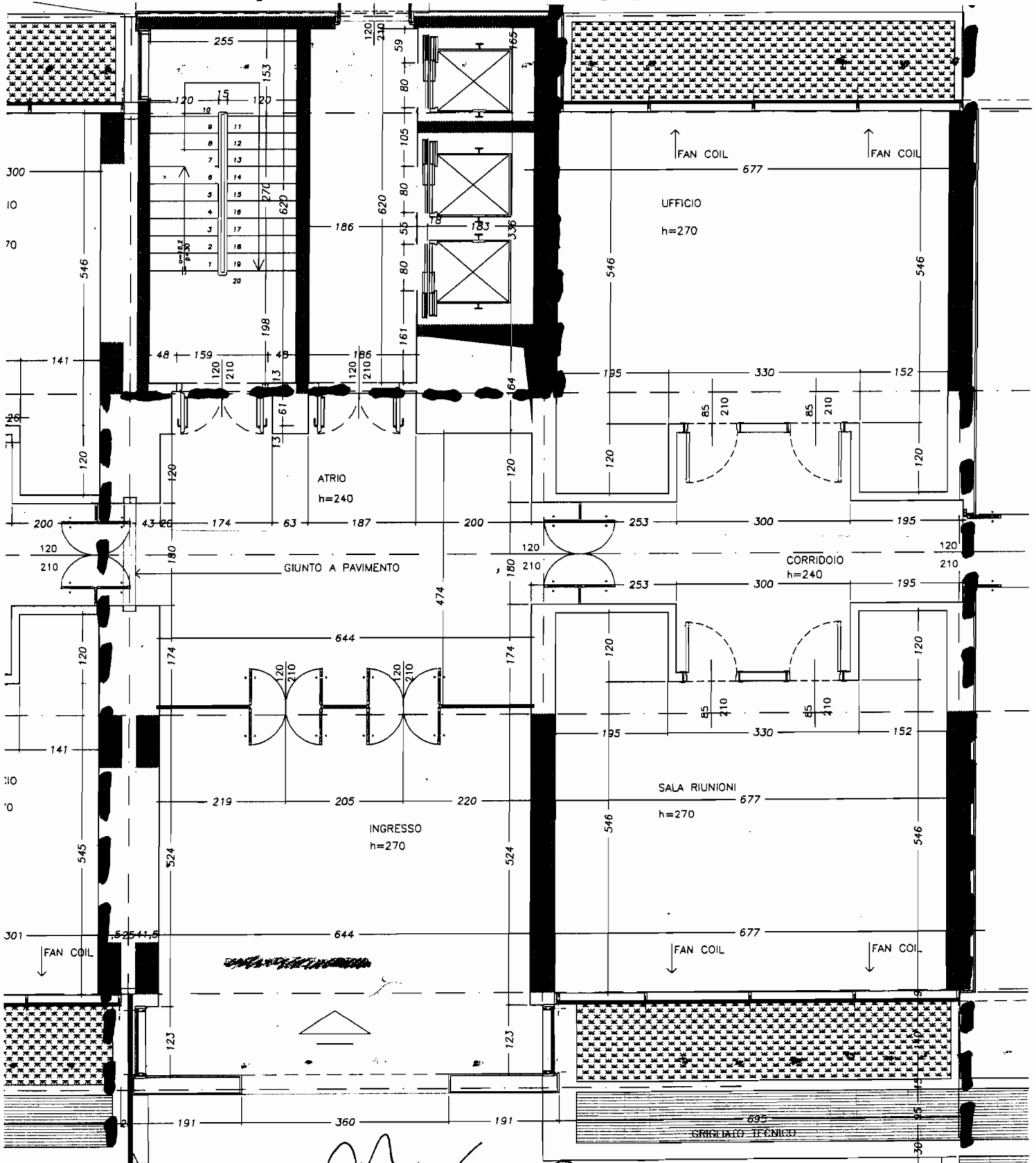
Particolare attenzione dovrà essere posta ai problemi della sicurezza in fase di progettazione.

Scrivere la relazione da allegare alla domanda di concessione/autorizzazione per il Comune.



*[Handwritten signatures]*

Dopo aver effettuato la rappresentazione alla scala esecutiva (rapp. 1:50), sviluppare il progetto architettonico degli interni, con arredi, corredato di particolari costruttivi alle scale opportune e comunque non inferiori a 1:10. Il grafico di riferimento fuori scala fornito deve essere considerato privo di tutte le finiture interne (tramezzature normali mobili o attrezzate, pavimenti, rivestimenti, controsoffitti, sanitari, rubinetterie, infissi interni, ecc.) di cui dovrà essere fornito un computo metrico estimativo. Particolare attenzione dovrà essere posta ai temi della sicurezza in fase di progettazione.



GIUNTO STRUTTURALE

PIANO TERRA

*Clabar*

**PROVA PRATICA**

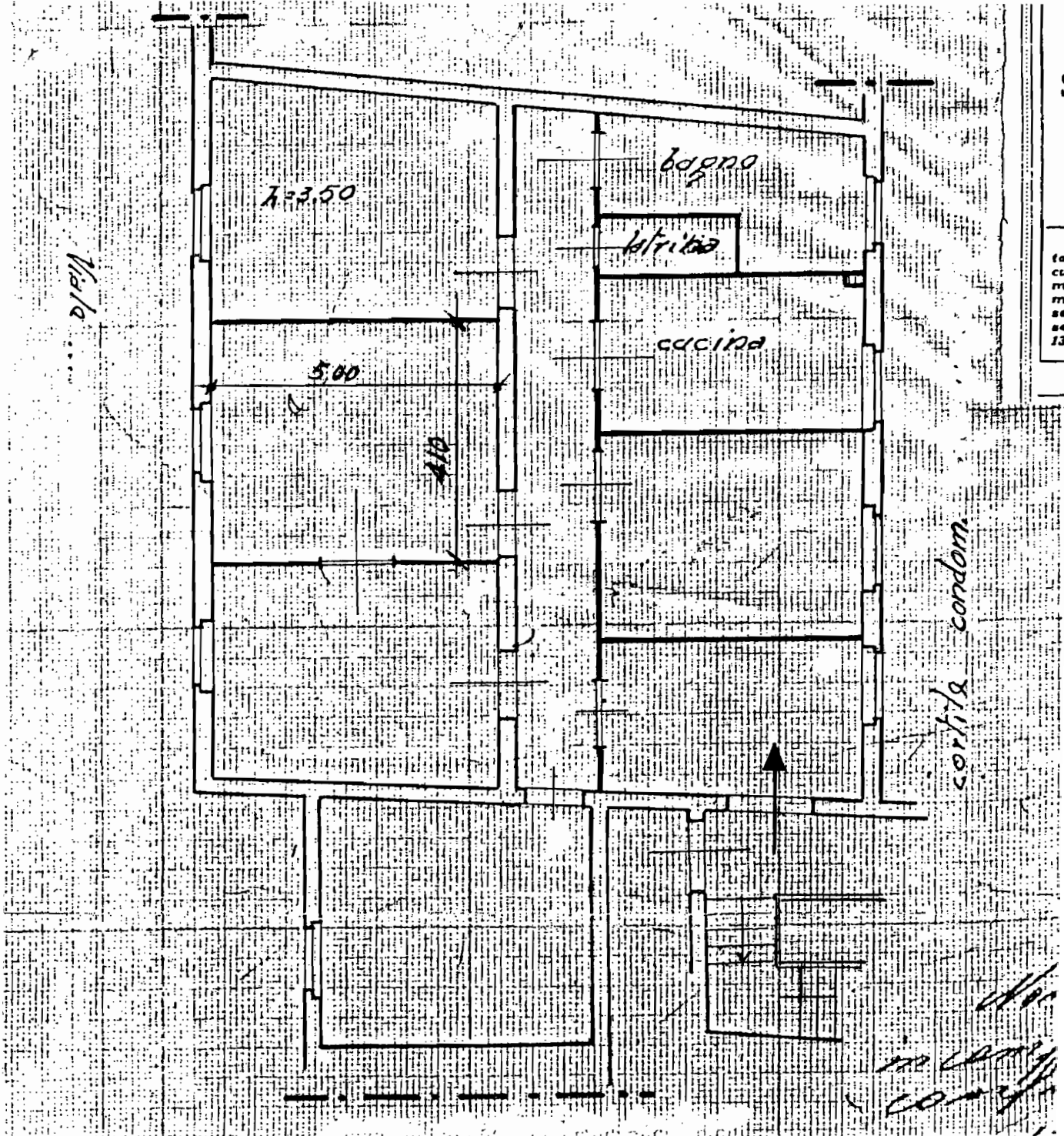
DATO IL DISEGNO DELL' APPARTAMENTO IN ALLEGATO, DOVENDO PREVEDERE LA RISTRUTTURAZIONE E LA RIFUNZIONALIZZAZIONE DELL'IMMOBILE, SI RICHIEDONO:

- PIANTA (SCALA 1:50) CON INDICAZIONE DEGLI ARREDI, DEI PUNTI LUCE DELL'IMPIANTO ELETTRICO NONCHE' DELLE INFORMAZIONI NECESSARIE ALLA SUA PIU' COMPLETA DEFINIZIONE: QUOTE, MISURE, MATERIALI ECC. E QUANT'ALTRO IL CANDIDATO RITENGA OPPORTUNO PER UNA ESAURIENTE DESCRIZIONE DEL PROGETTO E PER UNA SUA CORRETTA REALIZZAZIONE.

- SEZIONE (1:50)
- PARTICOLARI COSTRUTTIVI E/O ARCHITETTONICI NELLE SCALE PIU' OPPORTUNE;
- ALMENO UN DETTAGLIO DI UN ARREDO FISSO;
- RELAZIONE TECNICO- ILLUSTRATIVA A GIUSTIFICAZIONE E CHIARIMENTO DELL' INTERVENTO PROPOSTO

**1ª PROVA SCRITTA**

- IL CANDIDATO ELABORI UN COMPUTOMETRICO ESTIMATIVO RELATIVO ALLE OPERE DA REALIZZARSI.



*[Handwritten signatures]*

*PROVA 1C - TRACCIA 2*

1) -Interior Design -Progetto di un Bar / Tavola Calda. (mq 75 circa con h =mt 4,50) al piano terra di un edificio per abitazioni.

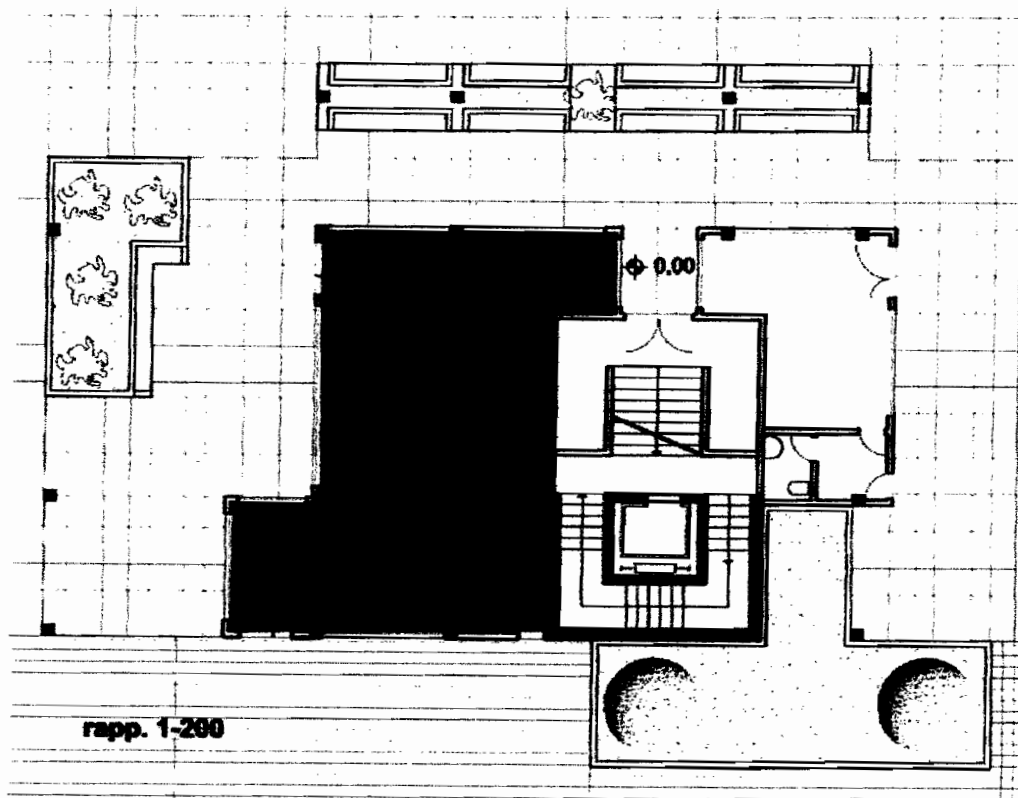
Dopo aver eseguito la rappresentazione alla scala esecutiva (rapp. 1/50) della porzione allegata ( rapp.1/200) effettuare lo sviluppo del progetto architettonico ,comprensivo degli arredi (rapp. 1:50). Valutare l'inserimento delle vetrine nel prospetto di un edificio con antistante un portico e progettare l'insegna. Il progetto sarà corredato dei particolari costruttivi alle scale opportune (1:10 -1:5 -1:2 -1:1) .

**Prova scritta**

Effettuare la relazione tecnica ed il Computo metrico estimativo ( per i valori/costi indicare solo le unità di misura) relativi alle opere da realizzare.

Particolare attenzione dovrà essere posta ai problemi della sicurezza in fase di progettazione.

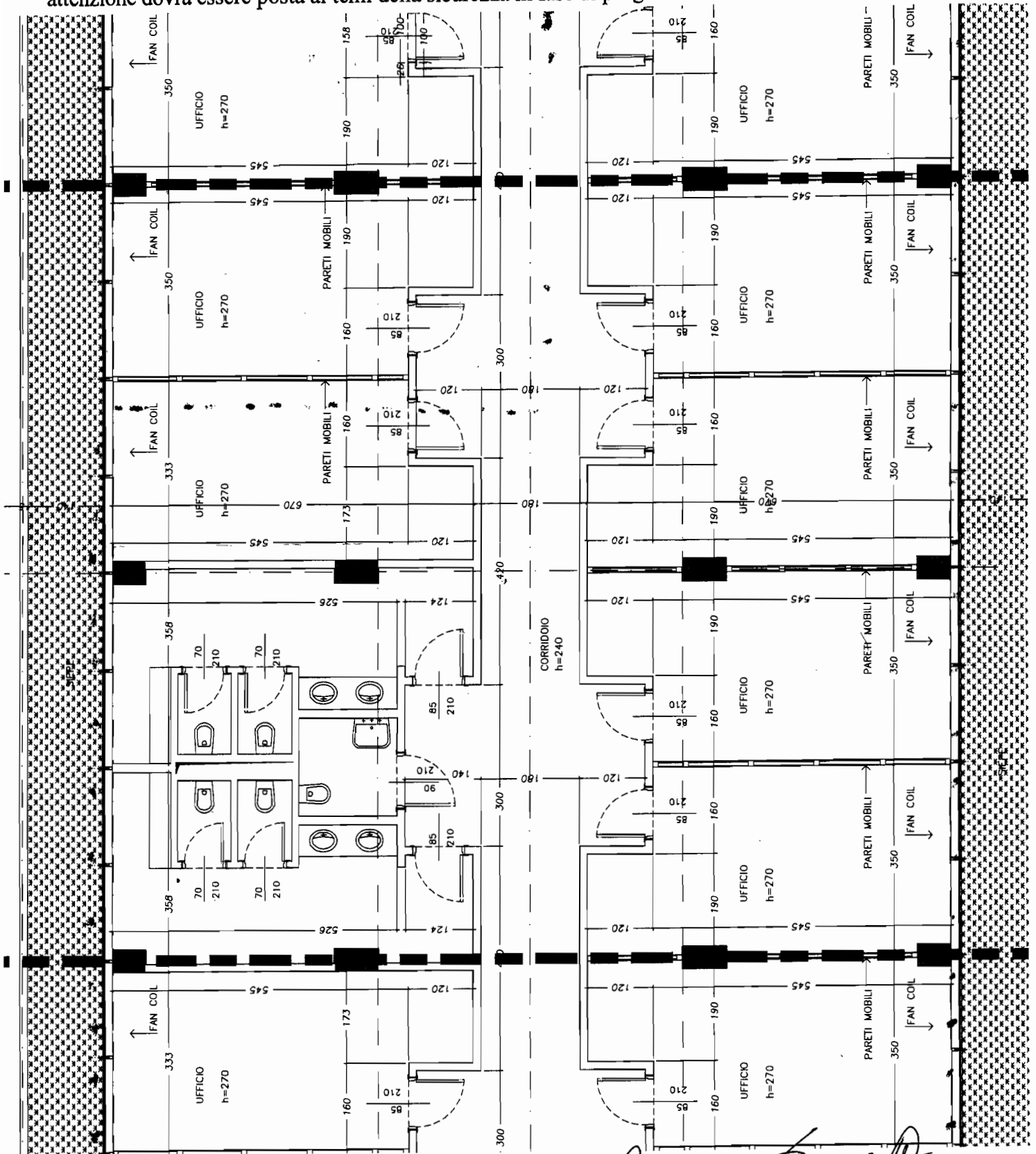
Scrivere la relazione da allegare alla domanda di concessione/autorizzazione per il Comune.



*[Handwritten signatures]*



Dopo aver effettuato la rappresentazione alla scala esecutiva (rapp. 1:50), sviluppare il progetto architettonico degli interni, con arredi, corredato di particolari costruttivi alle scale opportune e comunque non inferiori a 1:10. Il grafico di riferimento fuori scala fornito deve essere considerato privo di tutte le finiture interne (tramezzature normali mobili o attrezzate, pavimenti, rivestimenti, controsoffitti, sanitari, rubinetterie, infissi interni, ecc.) di cui dovrà essere fornito un computo metrico estimativo. Particolare attenzione dovrà essere posta ai temi della sicurezza in fase di progettazione.



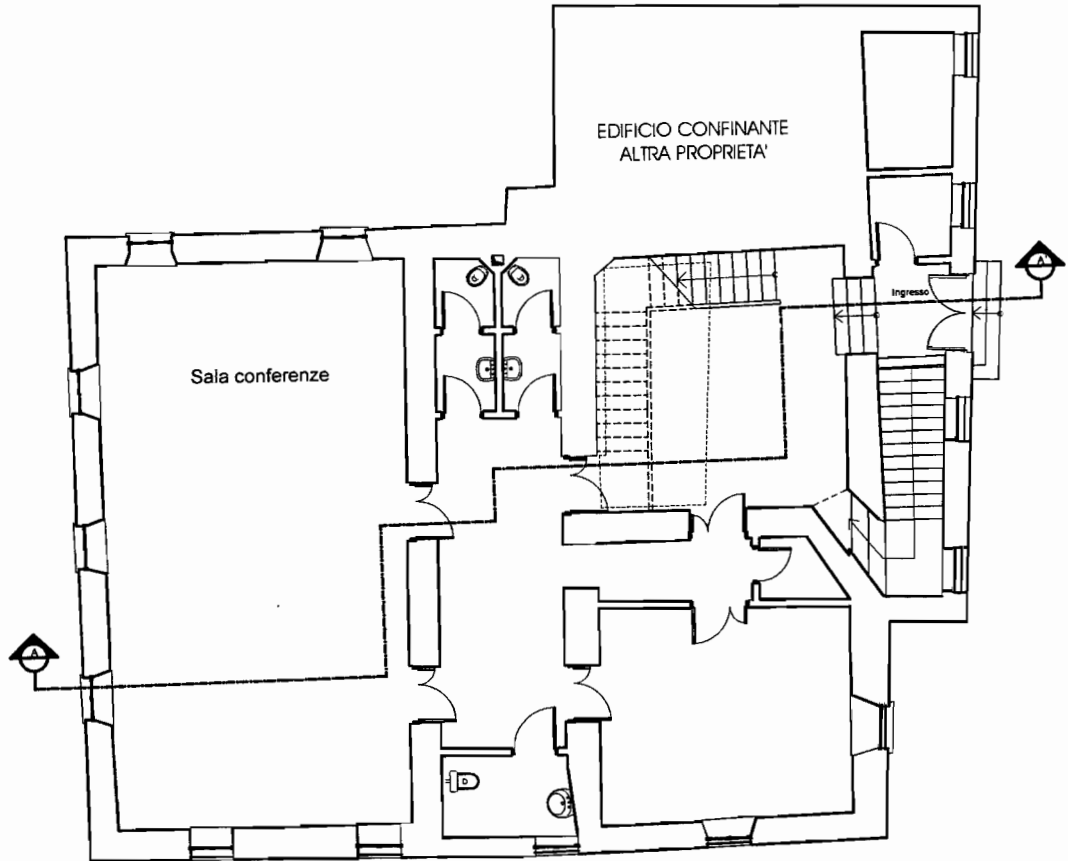
*[Handwritten signature]*

# SEZIONE B Settore ARCHITETTURA


## BUSTA N° 2

### TEMA 2- PROVA GRAFICA

Il candidato sviluppi graficamente il progetto esistente ridisegnando la pianta e la sezione longitudinale in scala 1:100 ed elabori lo stralcio di una sezione delle pareti esterne in scala 1:20.



Pianta PIANO RIALZATO



PROSPETTO FRONTALE

#### PROVA SCRITTA

Il candidato sviluppi la valutazione economico-quantitativa della prova grafica: attraverso l'elaborazione di un computo metrico e la stima del costo necessario per sua manutenzione ordinaria del piano oggetto della prova grafica.

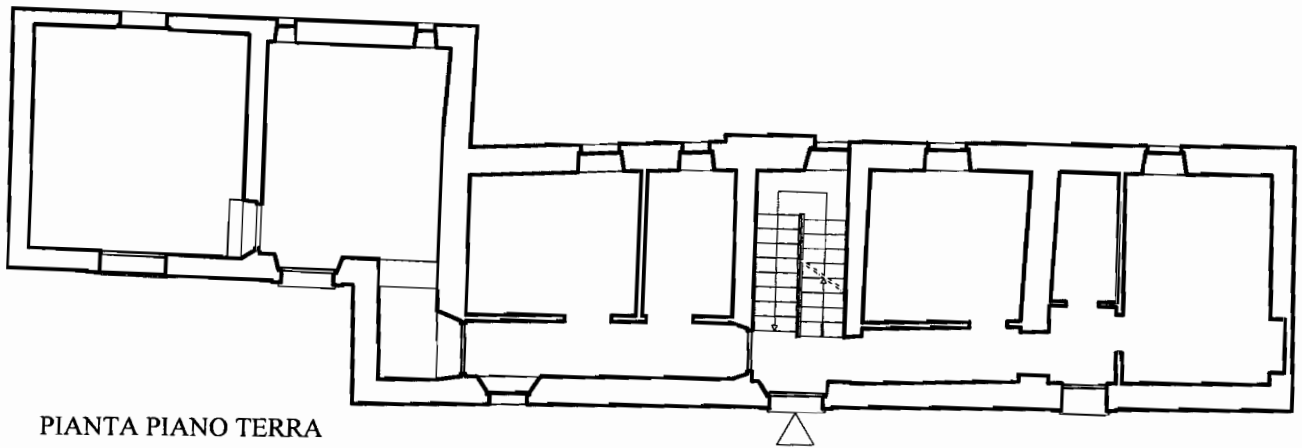
*Handwritten signatures and scribbles on the right side of the page, including a large signature that appears to read 'Pasquale'.*

# SEZIONE B Settore ARCHITETTURA

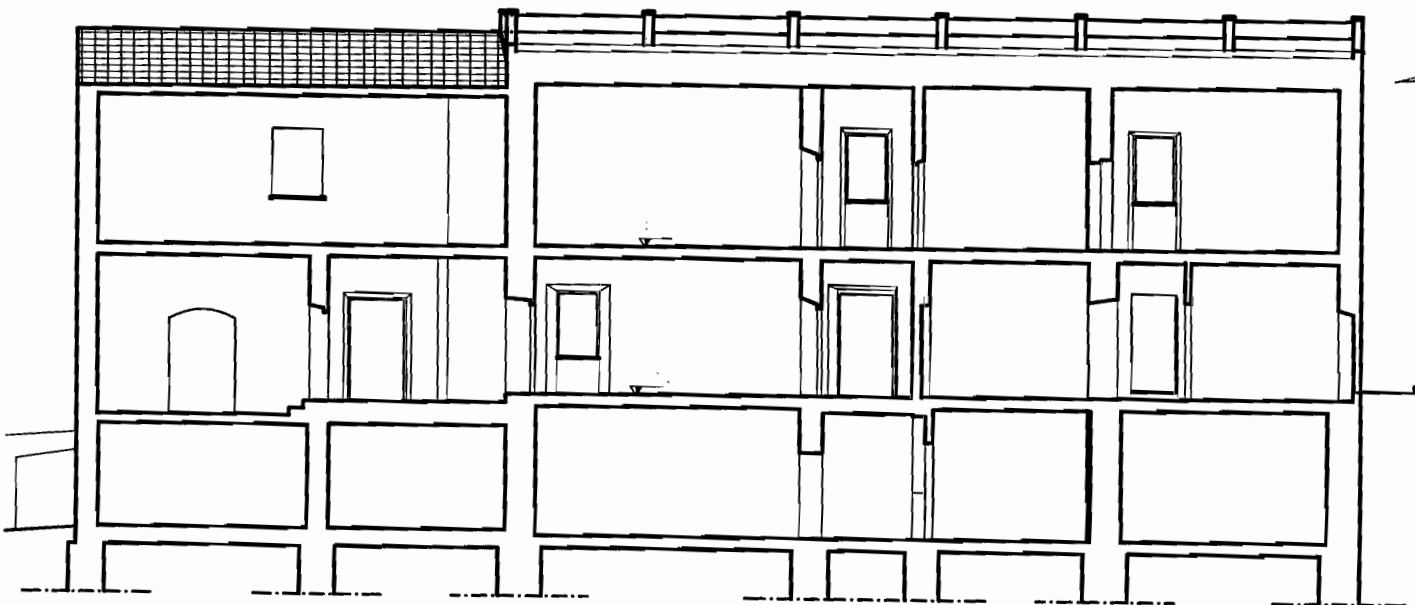
## BUSTA N° 2

### TEMA 1- PROVA GRAFICA

Il candidato sviluppi graficamente il progetto esistente ridisegnando la pianta ed il prospetto frontale in scala 1:100 ed elabori lo stralcio di una sezione delle pareti esterne in scala 1:20.



PIANTA PIANO TERRA



SEZIONE A-A

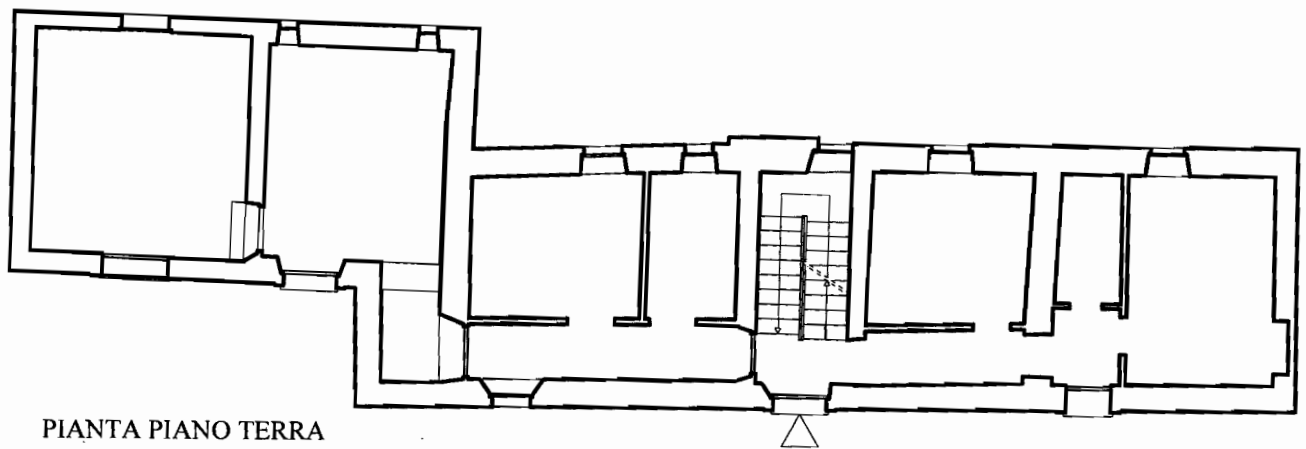
**PROVA SCRITTA**

Il candidato sviluppi la valutazione economico-quantitativa della prova grafica: attraverso l'elaborazione di un **computo metrico** e la stima del costo necessario per sua manutenzione ordinaria del piano oggetto della prova grafica.

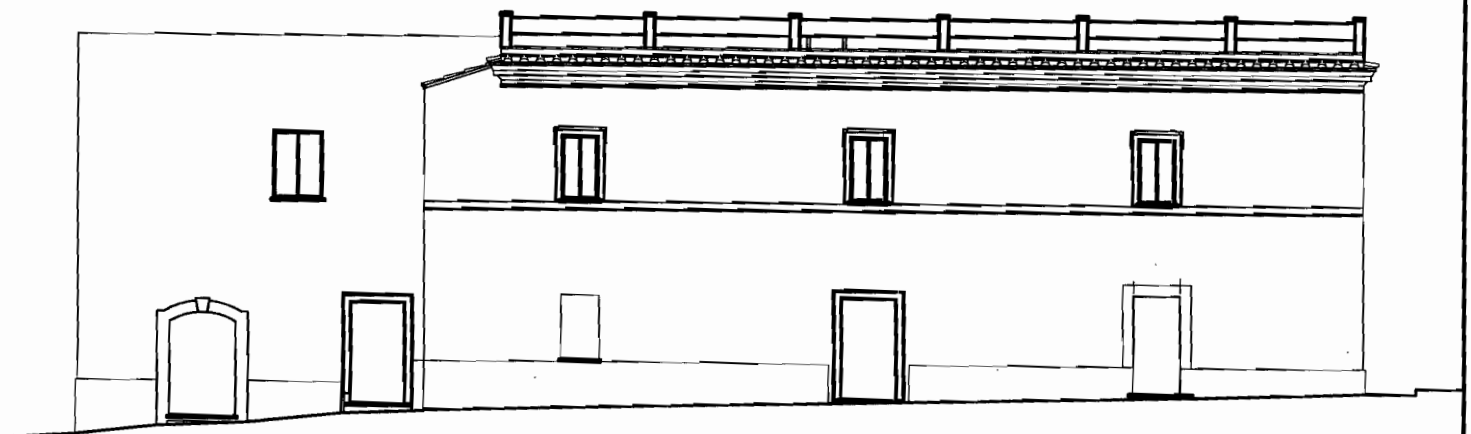
# SEZIONE B Settore ARCHITETTURA BUSTA N° 1

## TEMA 1 - PROVA GRAFICA

Il candidato sviluppi graficamente il progetto esistente ridisegnando la pianta e la sezione longitudinale in scala 1:100 ed elabori lo stralcio di una sezione delle pareti esterne in scala 1:20.



PIANTA PIANO TERRA



PROSPETTO FRONTALE

### PROVA SCRITTA

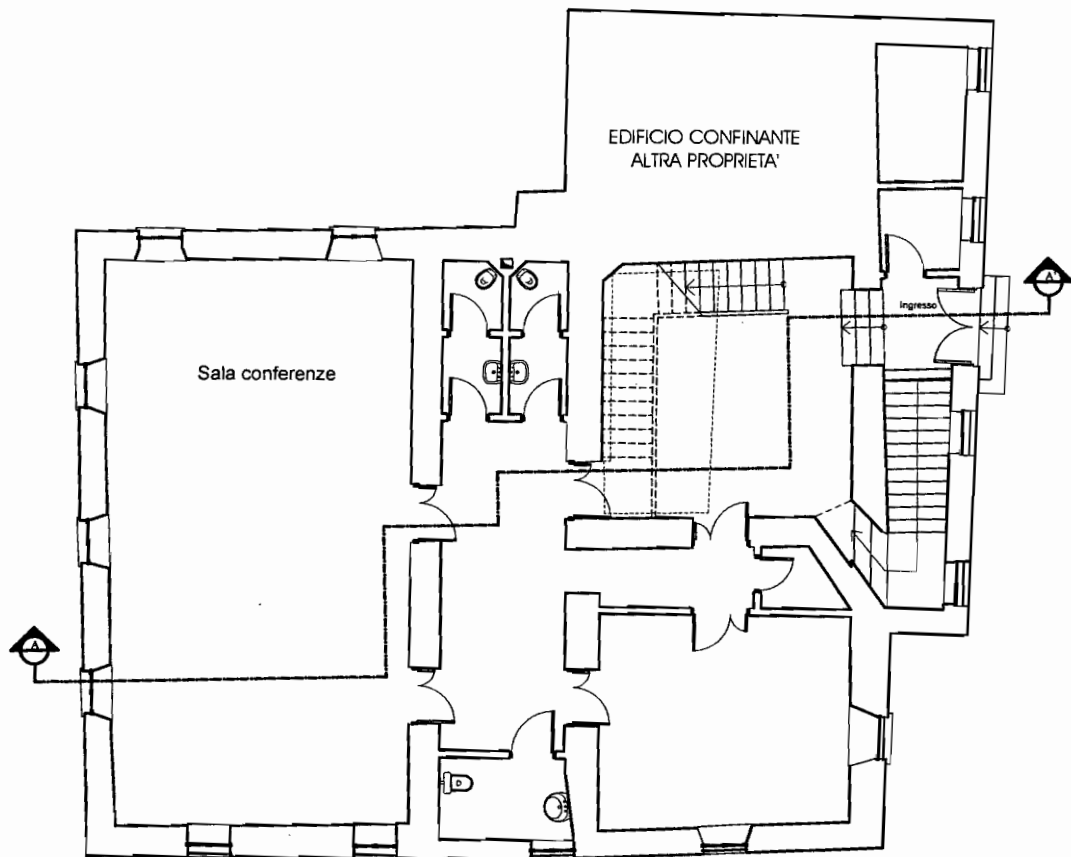
Il candidato sviluppi la valutazione economico-quantitativa della prova grafica: attraverso l'elaborazione di un compito metrico e la stima del costo necessario per sua manutenzione ordinaria del piano oggetto della prova grafica.

# SEZIONE B Settore ARCHITETTURA

## BUSTA N°1

### TEMA 2 - PROVA GRAFICA

Il candidato sviluppi graficamente il progetto esistente ridisegnando la pianta ed il prospetto frontale in scala 1:100 ed elabori lo stralcio di una sezione delle pareti esterne in scala 1:20.



Pianta PIANO RIALZATO



SEZIONE A-A

#### PROVA SCRITTA

Il candidato sviluppi la valutazione economico-quantitativa della prova grafica: attraverso l'elaborazione di un computo metrico e la stima del costo necessario per sua manutenzione ordinaria del piano oggetto della prova grafica.